



Wie lange dauert was?
Notiere die Uhrzeiten und rechne aus!




Cookie schläft.




_____ Uhr

_____ Uhr





Cookie ist in der Schule.



_____ Uhr

_____ Uhr



Cookie ist mit Pepsi im Garten.



_____ Uhr

_____ Uhr

Cookie geht spazieren.



_____ Uhr

_____ Uhr